

**Всероссийская олимпиада школьников по
технологии профиль «Культура дома, дизайн и технологии»**

5 класс.

Время выполнения заданий – 45 минут.

Максимально возможный балл – 20 баллов

Задания

1. (1 балл) Рассмотрите предложенные фотографии и расположите данные объекты в порядке их изобретения.



Ответ 213

2. (1 балл) Разгадайте слово. Расположите буквы в правильном порядке, разгадайте зашифрованное слово, получите название: творческий процесс создания роботизированной техники, проще говоря, роботов:

нибототехрока

Ответ робототехника

3. (1 балл) Вставьте пропущенное слов.

радио – это электронное устройство, предназначенное для хранения, обработки и передачи данных.

4. (1 балл) Какие пластичные материалы используются в лепке:

а) пластмасса;

б) полимерная глина;

- в) мел;
- г) уголь.

5. (1 балл) Выберите правильный ответ.

Специальное помещение для приготовления пищи, хранения продуктов называется:

- а) горница;
- б) столовая;
- в) кухня;
- г) веранда;
- д) гостиная.

6. (1 балл) Выберите правильный ответ. Для изготовления льняной ткани используют:

- а) стебель растения;
- б) цветы растения;
- в) коробочку с волокнами;
- г) все ответы верны.



7. (1 балл) Выберите правильный ответ. Вид декоративно-прикладного искусства, в котором узор и изображение выполняется посредством вышивания на тканях, коже, войлоке и др. материалах шелковыми, шерстяными, льняными, хлопчатобумажными и металлическими нитками, а также бисером, жемчугом, драгоценными камнями, монетами и т. д.

- а) батик;
- б) вышивка;
- в) вязание;
- г) мозаика.

8. (1 балл) Выберите два правильных ответа. Как называется ткань, окрашенная в один цвет

- а) пестротканая;
- б) однотонная;

- в) гладкокрашенная;
- г) меланжевая.

9. (1 балл) Какую информацию можно получить при чтении чертежа:

- 1
- а) форма и размер;
 - б) размер и цвет;
 - в) форма и цвет;
 - г) материал и цена.

10. (1 балл) Для изготовления сумки-шопера ученица использовала различные материалы. Что из перечисленного ниже является материалами?

- 0
- а) ножницы;
 - б) ткань;
 - в) нитки;
 - г) швейная машина;
 - д) сантиметровая лента.

11. (1 балл) Выберите правильное определение понятию «Полимеры»


- 1
- а) это искусственно созданные человеком материалы;
 - б) это изделие из наклеенных или нашитых на какую-либо поверхность деталей;
 - в) это древнее искусство складывания фигурок из бумаги.

12. (1 балл) Материал, который наклеивается при выполнении техники «Декупаж»:





- 0
- а) обои;
 - б) салфетка;
 - в) пленка.

13. (1 балл) Выберите правильный ответ. Какой шов изображен на рисунке:

- 1
- а) вперед иголку;
 - б) стебельчатый;
 - в) тамбурный;
 - г) крестообразный





14. (1 балл) Соотнесите названия линий чертежа с изображениями:

а) сплошная тонкая; б) пунктирная; в) штрихпунктирная; г) сплошная толстая.	1) 
	2) 
	3) 
	4) 

0 Ответ: а) 2 б) 3 в) 4 г) 1

15. (6 баллов) Кейс-задание

На уроке технологии ученица использовала следующий алгоритм из стрелок для орнамента вышивки:

	что соответствует данному орнаменту	
---	--	---

постройте орнамент используя следующий алгоритм:



15 б

6